



الاختبار الشهري الأول




الفصل الأول / السنة الأولى

اسم الوحدة	المفاهيم الرياضية والعمليات الحسابية	مخرج التعلم	- يميز الأرقام من وقاديرها من 1 - 1000. - يستخدم العمليات الحسابية البسيطة (الجمع / الطرح / القسمة).
اسم المدرب		السنة الدراسية / الفصل الدراسي الأول	السنة الأولى
اسم الطالب/ة		رقم المجموعة	2024-2025

أسئلة الاختبار

السؤال الأول	عد الأشكال وضع دائرة حول العدد الصحيح.
السؤال الثاني	حدد بطريقة عملية الأرقام على الآلة الحاسبة.

السؤال الأول	عد الأشكال وضع دائرة حول العدد الصحيح.
--------------	--

		
2 3 5	1 4 9	3 8 6



حدد بطريقة عملية الأرقام على الآلة الحاسبة.

السؤال الثاني

